

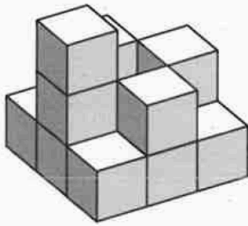
# Aufgaben Geometrie

2020

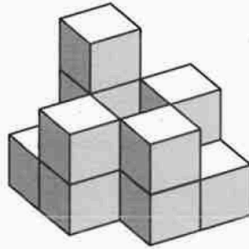
8. Ein Körper aus Holzwürfeln hat den folgenden Bauplan.

1	2	
2	1	2
1	3	1

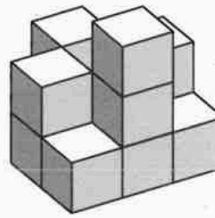
a) Welche der vier gezeichneten Körper I, II, III, IV können *nicht* zum gegebenen Bauplan gehören?




I



II



III



IV

b) Die Holzwürfel haben eine Kantenlänge von 1 cm. Bestimme für den Körper mit dem gegebenen Bauplan die Summe aller Flächen (Oberfläche des Körpers).

